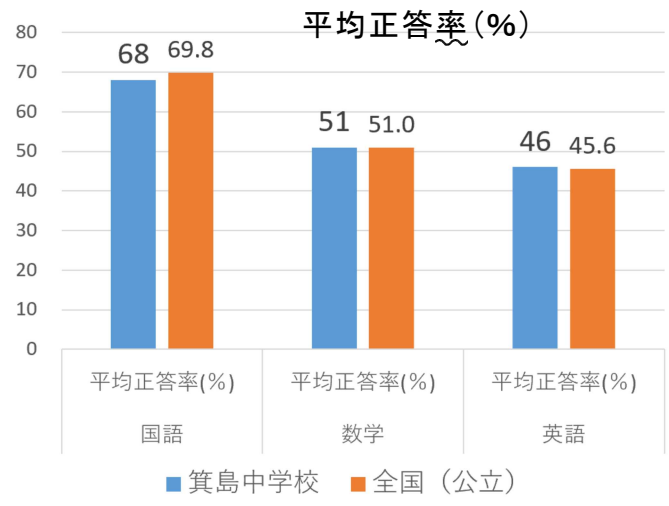


全国学力・学習状況調査の結果から



平均正答数

国語
15あった問題に対して一人あたり平均で10.1問正解(全国平均は15問中10.5問正解)

数学
15あった問題に対して一人あたり平均で7.6問正解(全国平均は15問中7.6問正解)

英語
17あった問題に対して一人あたり平均で7.7問正解(全国平均は17問中7.7問正解)

4月に3年生で実施された全国学力・学習状況調査の結果をお知らせします。実施は3年生ですが、1・2年生のみなさんも読んでください。左上のグラフは、それぞれの実施教科での箕島中学校と全国の平均正答率(%)の比較です。しかし、平均正答率よりも一人あたり平均して何問正解しているかという平均正答数のほうが分かりやすいと思いますので、同時に右上に掲載しておきます。国語が若干全国平均よりも下回る結果でしたが、数学・英語は全国平均と同じであるという結果でした。

せっかくの機会ですので、実施されたそれぞれの教科で、全国平均に比べると特徴のあった問題の一部を載せておきます。(1・2年生のみなさんも、できる問題はやってみましょう)

【国語】(全国平均より+5.4% 本校正答率 70.5%)

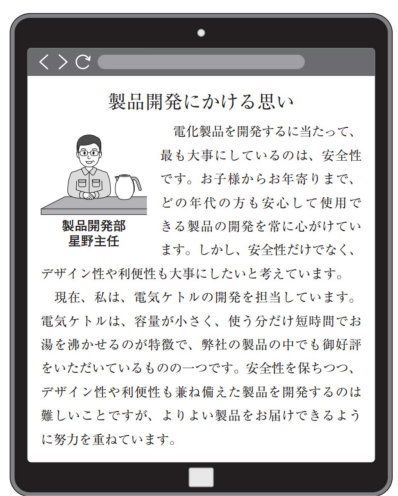
南さんは、総合的な学習の時間に、「社会で働く上で大切なことを考える」という学習に取り組んでいます。インターネットで情報を集めていた南さんは、電化製品を開発している星野さんの記事に興味をもち、会社を訪問して星野さんにインタビューをしました

南さんが【インタビューの前に準備したメモ】に線部①「『安全性だけでなく、デザイン性や利便性も大事にしたい』と考えるのはどうしてか。」と書いたのは、【インターネットの記事】のどのような点に気付いたからだと考えられますか。次の1から4までのうち、最も適切なものを一つ選びなさい。

- 事例は示されているが、星野さんの考えとは内容が矛盾している点。
- 事例は示されているが、星野さんの考えが書かれていない点。
- 星野さんの考えは示されているが、その理由が書かれていない点。
- 星野さんの考えと理由は示されているが、理由として不十分である点。

〈インタビューの目的〉
星野さんの製品開発に対する思いを聞き、自分の考えの参考にする。

〈インタビューを通して知りたいこと〉
①「安全性だけでなく、デザイン性や利便性も大事にしたい」と考えるのはどうしてか。
・「安全性を保ちつつ、デザイン性や利便性も兼ね備えた製品を開発するのは難しい」とあるが、具体的にどのような難しさがあるのか。
・社会で働く上で何が大切だと思うか。



答：3

【国語】（全国平均より-9.8% 本校正答率 34.1%）

（省略）描かれているものと意味しているものと異なるため、解読する際には、「判じる」こと、つまり、知っていることをもとに「おし量って考える」ことが必要になる。

___線部のひらがなを漢字に直し、楷書でいねいに書きなさい。

答：推

【数学】（全国平均より+10.4% 本校正答率 76.1%）

イチョウの木の大部分の葉が黄色に変わった最初の日を黄葉日と
いいます。一花さんと啓太さんは、黄葉日の傾向を調べるために、
各年の黄葉日を9月30日からの経過日数で表すことにしました。こ
のとき、経過日数は10月1日が1日となり、10月31日は31日、11月
1日は32日となります。そして、二人は次のような表にまとめまし
た。そして、60年分の経過日数を何年かごとのまとまりで分けて、
それぞれの分布の傾向を比較することにしました。

	経過日数(日)				
	最小値	第1四分位数	中央値	第3四分位数	最大値
1961年～1975年	23	34	41	44	51
1976年～1990年	36	46	48	51	61
1991年～2005年	45	49	53	62	72
2006年～2020年	46	63	64	68	71

(1) 1961年～1975年の四分位範囲を求めなさい。

答：10

【数学】（全国平均より-4.1% 本校正答率 42.0%）

下のアからオまでの数の中から自然数をすべて選びなさい。

ア -5 イ 0 ウ 3 エ 4.7 オ 9

答：ウ、オ

（4人に1人がイ、ウ、オと答えていました。）

【数学】（全国平均より-5.4% 本校正答率 25.0%）

空間における平面が1つに決まる場合について正しく述べたものを、下のアからエまでのの中から1つ選びなさい。

ア 1点をふくむ平面は1つに決まる。 イ 2点をふくむ平面は1つに決まる。
ウ 1つの直線上にある3点をふくむ平面は1つに決まる。 エ 1つの直線上にない3点をふくむ平面は1つに決まる。

答：エ

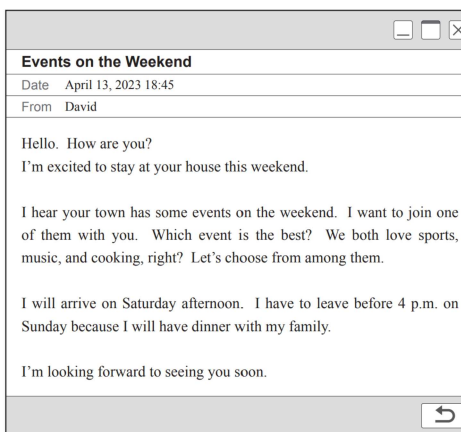
【英語】（全国平均より+6.1% 本校正答率 42.0%）

次の英文は、友達のデイビッド
(David) があなたに送ったメールで
す。メールを読んで、デイビッドにお
すすめのイベントとして最も適切なもの
を、右の1から4までのの中から1つ
選びなさい

(注) Market : マーケット

Orchestra : オーケストラ

答：3



1 Rugby Game



Let's watch together!

Date & Time
Saturday, April 15
9:30 a.m. - 11:30 a.m.

Place
Midori Park

2 Flower Market



You can buy beautiful flowers!

Date & Time
Saturday, April 15
9:00 a.m. - 4:00 p.m.

Place
Hikari Garden

3 City Orchestra



You can enjoy a wonderful performance!

Date & Time
Sunday, April 16
1:00 p.m. - 3:00 p.m.

Place
Tsubomi Hall

4 "Cook & Eat"



Let's enjoy cooking and eating!

Date & Time
Sunday, April 16
4:00 p.m. - 7:00 p.m.

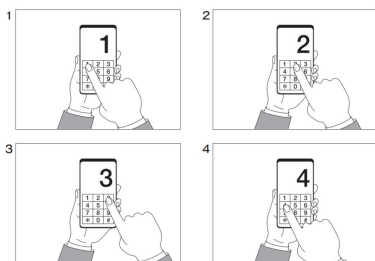
Place
Cooking Room "Wakaba"

【英語】（全国平均より-14.5% 本校正答率 46.6%）

(放送問題)

あなたは買物からの帰宅後、ショッピング
センターに傘を忘れたことに気が付きました。電話で問合せをしたところ、自動音声
案内につながりました。流れてくる音声メッセージを聞き、あなたが選択すべき番号
として最も適切なものを、下の1から4までのの中から1つ選びなさい。

（音声がないので解けません） 答：3



国語に限らず、学力テストは問題文が非常に長い上に、表や図形などをしっかりと理解しながら（考えながら）読み進めないといけない問題がたくさんあります。そういう意味でも「よむYOMUワークシート」などにしっかりと取り組むことは効果があると思います。